

PLANTE DE LIVADĂ



1. Ce este o livadă?
2. Ce pomi fructiferi sînt în părțile voastre?



1. Observați pe o planșă un măr și un prun. Prin ce se aseamănă ei? Prin ce se deosebesc?
2. Comparați un măr cu o prună (v. și figura 34). Observați mai întîi forma și mărimea lor. Tăiați mărul pe jumătate. Ce observați în interior? Ce alt fruct mai cunoașteți, care are semințele asemănătoare cu ale mărului? Tăiați o prună de-a lungul. Observați simburile.

În țara noastră se cultivă diferiți pomi fructiferi: mărul, părul, prunul, cireșul, vișinul, caisul etc. Cele mai întinse suprafețe de pomi fructiferi sînt mai ales în zona de deal.

Fructele coapte ale acestor pomi sînt hrănitoare și bogate în vitamine (fig. 35). Ele se consumă mult în stare proaspătă. Din ele se prepară și diferite produse alimentare (fig. 36).

Fig. 34.






Fig. 35. Denumiți fructele din acest desen.

Fig. 36. Ce se prepară din fructe?






Fig. 37. Arătați pe desen părțile din care este alcătuit acest pom fructifer. Scrieți-le apoi pe caiete.

După cum ați învățat, tulpina pomilor fructiferi este formată din *trunchi* și *ramuri*. Ramurile alcătuiesc *coroana* pomilor (fig. 37). Pe ele cresc frunzele, florile și fructele cu semințe.

Prunul

Prunul (fig. 38) este un pom roditor mult răspândit în țara noastră.

El are *rădăcina* lemnoasă, ramificată și adânc înfiptă în pământ.

Tulpina prunului nu crește prea înaltă.

Frunzele sînt ovale, cu marginile dințate.

Florile de pruni sînt albe-verzui.




Fig. 38. Ramuri de prun cu frunze, flori și fructe.

Prunele se consumă proaspete, uscate, afumate sau se folosesc pentru compoturi, gemuri și țuică.

Pentru obținerea unor recolte bogate de fructe, pomii trebuie îngrijiți. Primăvara, ei se curăță de crengile uscate precum și de omizi. Apoi, se stropesc cu diferite substanțe pentru a fi ocrotiți de insectele dăunătoare.

În *verile* secetoase terenul din livadă se udă.

Iarna se strînge zăpada în jurul trunchiurilor și astfel pomii sînt ocrotiți de gerurile puternice.



1. Unde se găsesc cele mai întinse livezi de prun?
2. Explicați de ce în livezile de pomi sînt multe păsărele.
3. Cum sînt păstrate și folosite fructele? Referiți-vă la mere, prune și pere.
4. De ce este bine să consumăm cît mai multe fructe?



Scrieți în caiete răspunsul corect:

Prunul este
(pom fructifer, plantă industrială, plantă sălbatică).
Prunele sînt
Pomii fructiferi cresc în